

## الوحدات والعشرات والمئات



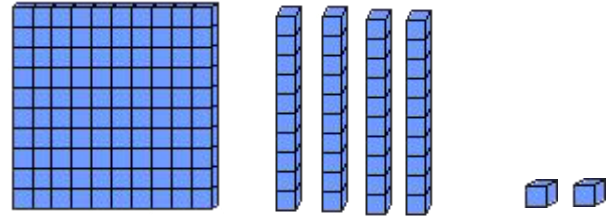
2 وحدات و  
عشرات و 1 مئة  
يمثل العدد 142

**أفهم وأتعلم :**

عند رائد المبلغ المبين في الشكل .  
ماهو المبلغ الذي عنده؟.

أقوم بتمثيل المبلغ بالقطع وكتابته على جدول المراتب.

وحدات	عشرات	مئات
2	4	1



132 مئة واثنان وثلاثون

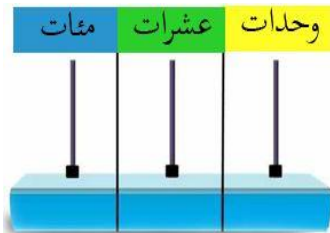
2 وحدات و 4 عشرات و 1 مئة

**أنجز:**

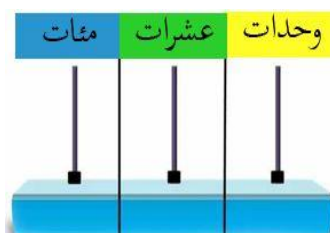
1- أستعمل النماذج لأمثل العدد ، ثم أملأ جدول المراتب وأكتب العدد.

العدد .....	وحدات	عشرات	مئات
العدد .....	3	6 و 2	
العدد .....	7	1 و 5	
العدد .....	9	0 و 7	

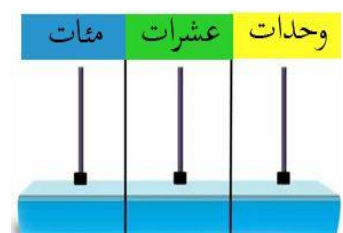
2- أمثل الأعداد الآتية بالمعداد.



143



107



150

## أوظف :

1- أستعين بجدول المراتب و أكتب 3 أعداد رقم مئتها 1 ورقم وحداتها 6 .

وحدات	عشرات	مئات

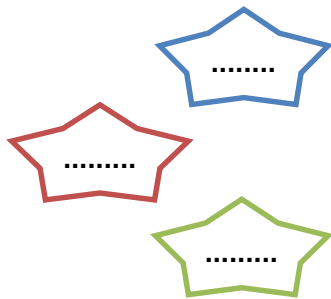
وحدات	عشرات	مئات

وحدات	عشرات	مئات

- أشرح لزملائي كيف أقرأ الأعداد المتحصل عليها ..

- أكتب الأعداد المتحصّل عليها بالحروف :

.....  
.....  
.....



2- أكتب الأعداد التي تظهر في الجمل بالأرقام .

- عدد أيام السنة ثلاثمائة وخمسة وستون يوما.

- يبعد المسجد عن منزلنا مئتان وسبعة عشر مترا

- باع تاجر تسعمائة وخمسين كيسا من الحليب

## أقيم:

أكمل الجدول بما يناسب :

العدد بالحروف	العدد بالأرقام	التمثيل على المعداد
.....	133	
ستمائة وخمسة وستون	.....	
.....	.....	

**نشاط منزلي :** ساعد طفلك في تمثيل العدد 362 على المعداد مع كتابة رقم الوحدات والعشرات والمئات