

طرح الأعداد حتى 99

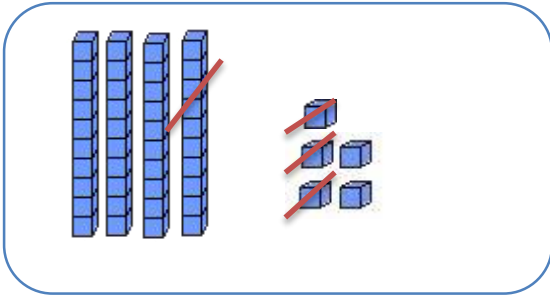
أفهم وأتعلّم

أطرح الوحدات من الوحدات ثم
أطرح العشرات من العشرات

أستعمل القطع والأعمدة لأجد ناتج طرح

$$10 - 3$$

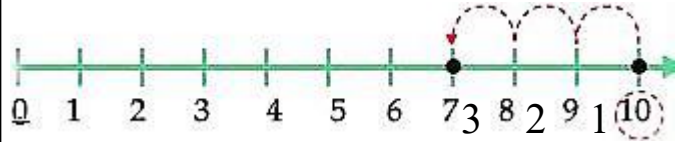
$$45 - 13$$



$$45 - 13 = 32$$

أطرح الوحدات من الوحدات

عند سناء 10 أقلام ملوّنة ، أعطت لزميلتها
3 أقلام . كم قلما بقي عندها ؟
أستعمل خط الأعداد لأجد ناتج طرح



$$10 - 3 = 7$$

أبدأ بالعدد 10 ثم أعدد تنازليًا بمقدار 3
والعشرات من العشرات

أنجز:

1- أطرح بالعدّ التنازليّ مستعملًا خطّ الأعداد .

$$7 - 3 = \dots$$

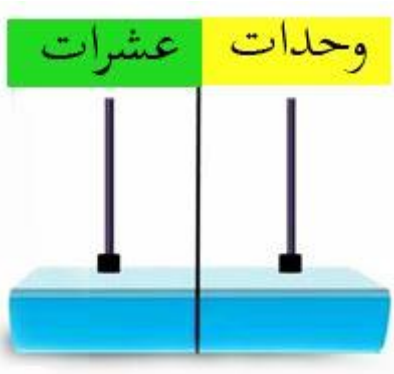
$$11 - 4 = \dots$$

$$9 - 5 = \dots$$

$$12 - 3 = \dots$$

$$6 - 4 = \dots$$

$$16 - 6 = \dots$$



2 - أستعمل المعداد لأجد باقي الطّرح.

$$88 - 25 = \dots$$

$$63 - 23 = \dots$$

$$40 - 20 = \dots$$

1- أنجز العمليات التالية :

$\begin{array}{r} 6 \quad 9 \\ - \quad 6 \quad 0 \\ \hline . \quad . \end{array}$	$\begin{array}{r} 2 \quad 8 \\ - \quad \quad 4 \\ \hline . \quad . \end{array}$	$\begin{array}{r} 6 \quad 7 \\ - \quad 5 \quad 7 \\ \hline . \quad . \end{array}$	$\begin{array}{r} 8 \quad 2 \\ - \quad 1 \quad 1 \\ \hline . \quad . \end{array}$
---	---	---	---

2 - أجد باقي الطرح وأتحقق بالجمع كما في المثال .

عملية الطرح	التحقق بالجمع
$50 - 30 = 20$	$20 + 30 = 50$
$67 - 23 = \dots\dots\dots$	$\dots\dots\dots$
$35 - 15 = \dots\dots$	$\dots\dots\dots$
$79 - 40 = \dots\dots\dots$	$\dots\dots\dots$



قصة عدد صفحاتها 36 صفحة ، قرأت منها 25 صفحة .
كم صفحة بقيت لم تقرأها ؟

.....

أتحقق من إجابتي

نشاط منزلي: اطلب إلى طفلك إيجاد ناتج الطرح للعددين $39 - 5$ و $87 - 60$ مع شرح الخطوات.