




تمثيل البيانات باستعمال إشارات العد

أفهم وأتعلم

يمكنني تمثيل
البيانات باستعمال
إشارات العد

سأل وسيم تلاميذ قسمه عن الرياضة المفضلة لديهم، وجمع
البيانات حول ذلك ، ثم مثلها باستعمال إشارات العد.

نوع الرياضة	إشارات العد
	☆ ☆ ☆ ☆
	☆ ☆ ☆
	☆
كل ☆ تمثل 3 تلاميذ	

- 1- عدد التلاميذ الذين يفضلون رياضة كرة القدم 12 تلميذا .
- 2- عدد التلاميذ الذين يفضلون السباحة 3 تلاميذ.
- 3- عدد تلاميذ القسم 24 تلميذا (أعلّل الإجابة شفويا).

أنجز :

1- عدّ أحمد أشجار مزرعة خاله ومثلّ عددها باستعمال إشارات العدّ.

الأشجار	الإشارات
العنب	▲ ▲ ▲
النخيل	▲ ▲ ▲ ▲ ▲
التين	▲ ▲
كل ▲ يمثل 5 أشجار	

- ما عدد أشجار العنب في مزرعة الخال ؟
- ما عدد أشجار النخيل والتين معا ؟

أوظف

أسأل زملائي في القسم عن أي فصل من فصول السنة الأربعة هو المفضل لديهم .

أسجل البيانات في جدول بحيث تمثل ثلاث تلاميذ.

الفصول	إشارات العد
الخريف	
الشتاء	
الربيع	
الصيف	


- ما الفصل الذي يفضله أكثر التلاميذ

- ما عدد التلاميذ الذين يفضلون فصلي الشتاء والصيف؟

أكتب العملية : = ○

أقيم :

ألاحظ الصورة :



1- أعدّ الأزهار بعناية وأكمل التمثيل البياني الآتي بحيث كلّ تمثل 😊 زوجا من الأزهار.

2- أسأل أصدقائي عن التمثيل البياني الذي رسمته.

لون الأزهار	الإشارة	العدد
لحمراء		
الصفراء		
الزرقاء		
البنفسجية		

نشاط منزلي : اجعل طفلك يمثل عدد الفناجين و الكؤوس التي في المطبخ مستعملا إشارات العد .