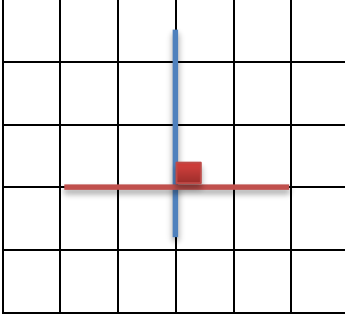


الأوضاع النسبية لمستقيمين

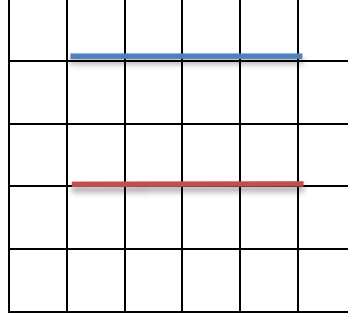
أفهم وأتعلّم :

المستقيمان
المتعامدان يشكّان
4 زوايا قائمة

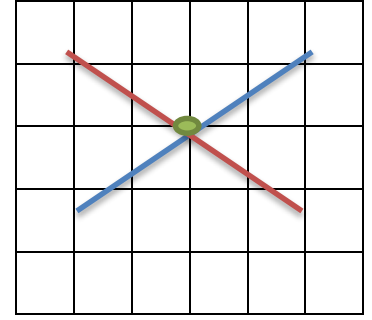
أحضّر أقلاماً أو أعواد مثلجات .
أقوم بوضعهما كما هو مبين في كلّ شكل .



مستقيمان متعامدان



مستقيمان متوازيان

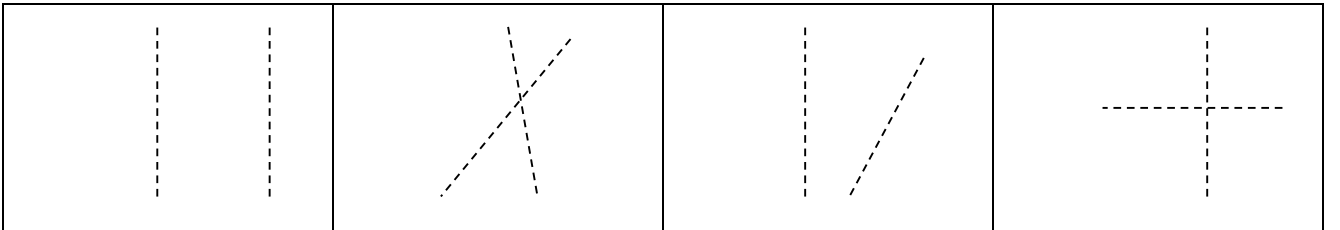


مستقيمان متقاطعان

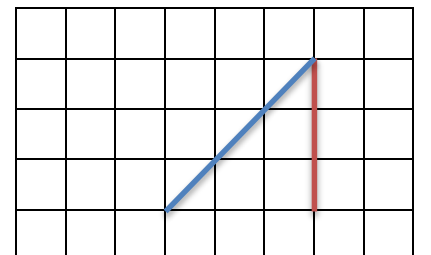
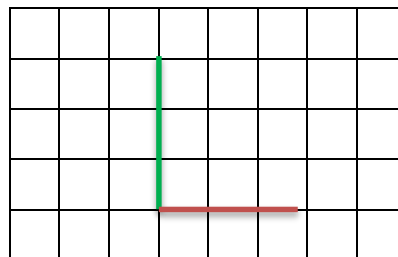
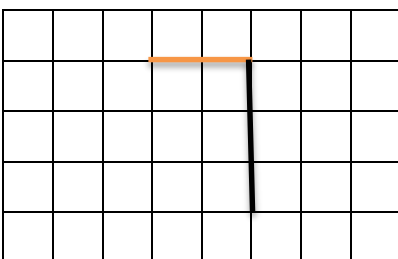
المستقيمان **المتقاطعان** يشتركان في نقطة .
المستقيمان **المتوازيان** لا يتقاطعان أبداً .

أنجز:


1 - أصل بين نقاط المستقيمين المتوازيين باللون الأزرق والمستقيمين المتعامدين باللون الأصفر.




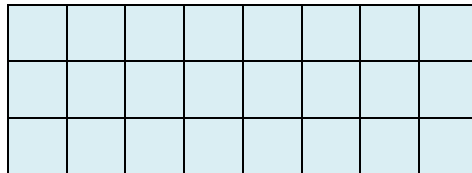
2 - أتعرفُ على الزاوية القائمة وألونها بالأحمر



- أحوط الأشياء التي تدلّ على التّوازي باللّون الأخضر ، والأشياء التي تدلّ على التّعاضد باللّون البرتقاليّ.



أكمل رسم المرسوفة باليد حسب النّموذج .



نشاط منزلي: اعرض على طفلك كرسيًا وساعده في تحديد القطع العموديّة والقطع المتوازيّة فيه .