

أتق الله حيثما كنت

ورقة عمل حول الضرب في 2

1/ لاحظ المثال واكمل (لون الخانات بنفس لون العملية):

$$2 \times 4 = 8$$

$2 \times 6 = \dots\dots$

$2 \times 8 = \dots\dots\dots$

$$2 \times 5 = \dots\dots\dots$$

$2 \times 3 = \dots\dots\dots$

$$2 \times 1 = \dots\dots\dots$$

2 x 9 =.....

2 x 2 =.....

$$2 \times 10 = \dots\dots\dots$$

$2 \times 0 = \dots\dots\dots$

02 / اكمل الشريط العددي :

A sequence of 15 circles arranged in a wavy line. The circles contain the numbers 2, 4, 12, 26, and 22 in order from left to right. The other circles are empty.

03/ اربط كل بطاقة بما يناسبها :

2x7

2x3

2x5

2x8

2x4

2x9

2x2

2x6

6

8

14

10

12

4

16

18

05/ ضع العلامة > ، < ، = مكان النقاط:

$$3 \times 2 \dots\dots\dots 3+3+3+3$$

$$2 \times 4 \dots\dots\dots 4 \times 2$$

$$2+10 \dots\dots\dots 2 \times 10$$

$$2+2+2+2+2+2 \dots\dots\dots 6+6$$

$$2 \times 9 \dots\dots\dots 20-2$$

$$2+2+2+4 \dots\dots\dots 2 \times 4$$

$$25 \dots\dots\dots 2 \times 5$$

04/ لون مضاعفات العدد 2:



07/ وضعية ادماجية :

اشترت مريم باقتين من الورد الأحمر،
في كل باقة 6 وردات.
- ما هو عدد الورد التي اشترتها مريم ؟

06/ اكمل حسب المثال:

$$2+2+2+2 = 2 \times 4 = 8$$

$$\dots\dots\dots = 2 \times 5 = \dots\dots\dots$$

$$\dots\dots\dots = 2 \times \dots\dots\dots = 16$$

$$2+2+2+2+2+2+2 = \dots\dots\dots \times 7 = \dots\dots\dots$$

$$\dots\dots\dots = 2 \times \dots\dots\dots = 18$$

$$2+2+2 = \dots\dots\dots = \dots\dots\dots$$

الحلول

1/ لاحظ المثال واكمل (لون الخانات بنفس لون العملية):

$2 \times 4 = 8$

$2 \times 6 = 12$

$2 \times 8 = 16$

$2 \times 5 = 10$

$2 \times 3 = 6$

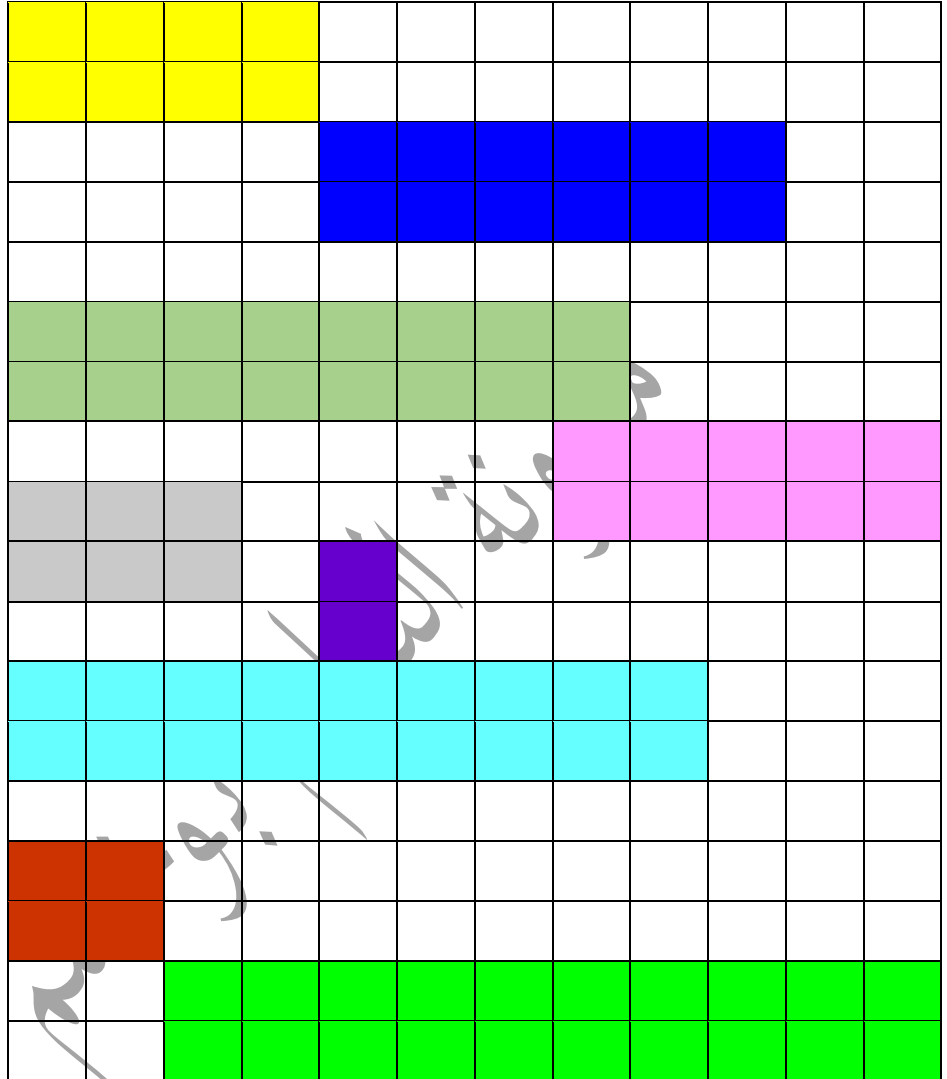
$2 \times 1 = 2$

$2 \times 9 = 18$

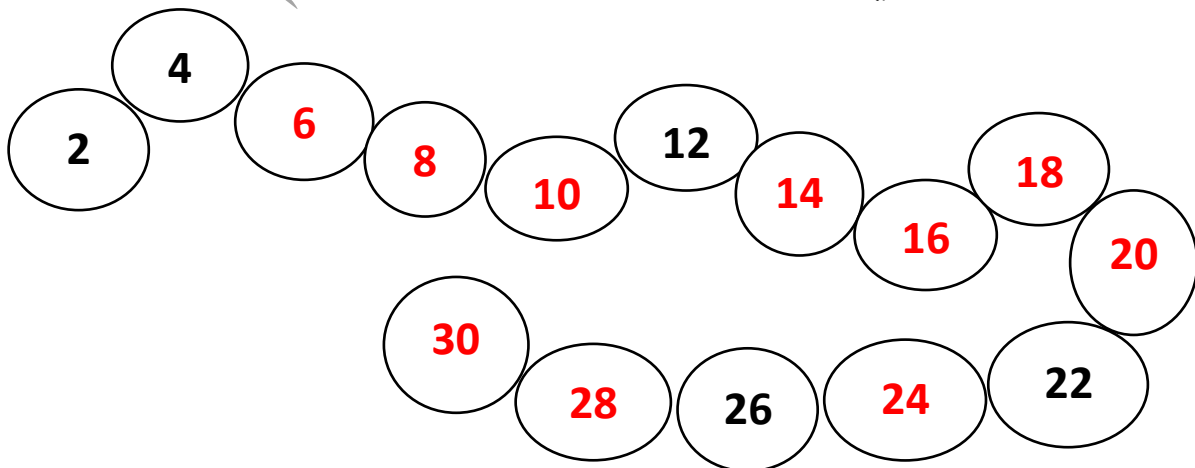
$2 \times 2 = 4$

$2 \times 10 = 20$

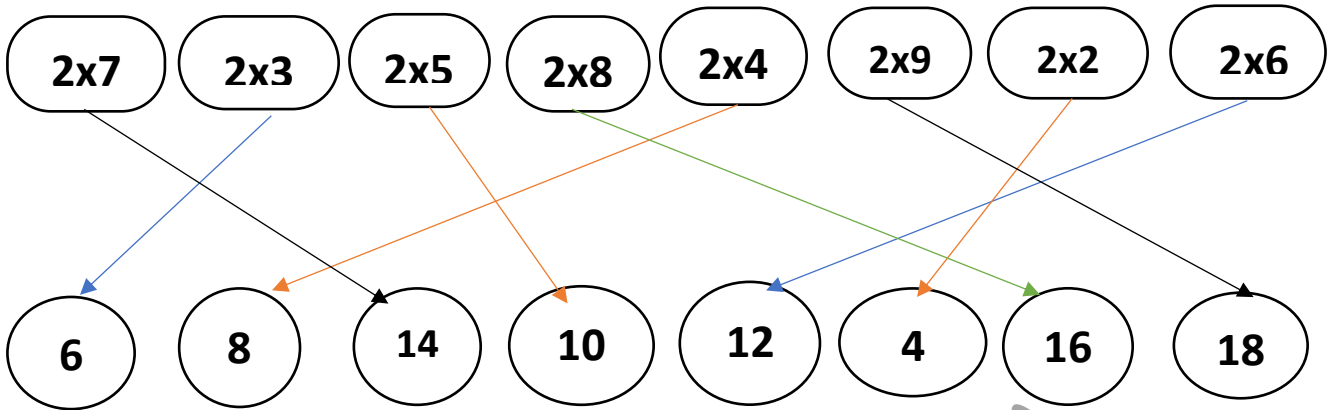
$2 \times 0 = 0$



02/ اكمل الشريط العددي:



03/ اربط كل بطاقة بما يناسبها :



05/ ضع العلامة > ، < ، = مكان النقاط:

$$\begin{aligned}
 3 \times 2 &< 3+3+3+3 \\
 2 \times 4 &= 4 \times 2 \\
 2+10 &< 2 \times 10 \\
 2+2+2+2+2+2 &= 6+6 \\
 2 \times 9 &= 20-2 \\
 2+2+2+4 &> 2 \times 4 \\
 25 &> 2 \times 5
 \end{aligned}$$

04/ لون مضاعفات العدد 2:

مضاعفات العدد 2 هو كل عدد رقم
آحاده يكون :

$$0 - 2 - 4 - 6 - 8$$

في هذه الشجرة التلميذ يقوم بتلوين :

$$0 - 6 - 8 - 12 - 14 - 20 - 2 - 4 - 18$$

$$- 22 - 16 - 10 - 18$$

07/ وضعية ادماجية :

اشترت مريم باقتين من الورد الأحمر،
في كل باقة 6 وردات
- ماهو عدد الورد التي اشترتها مريم؟

$$2 \times 6 = 12$$

عدد الورد التي اشترتها مريم هو:

12 وردة

06/ اكمل حسب المثال:

$$2+2+2+2 = 2 \times 4 = 8$$

$$2+2+2+2+2 = 2 \times 5 = 10$$

$$2+2+2+2+2+2+2 = 2 \times 8 = 16$$

$$2+2+2+2+2+2+2 = 2 \times 7 = 14$$

$$2+2+2+2+2+2+2+2 = 2 \times 9 = 18$$

$$2+2+2 = 2 \times 3 = 6$$

إن أحسنت فمن الله وإن أسأت أو أخطأت فمن نفسي والشيطان