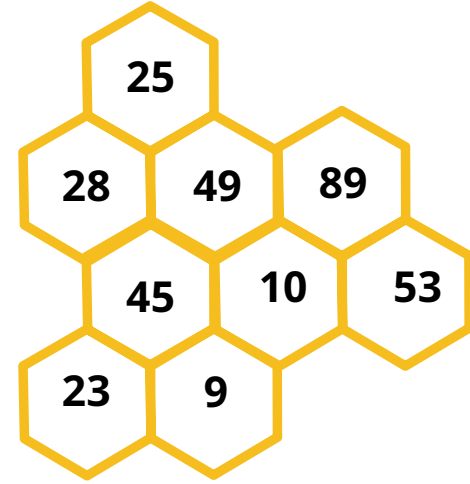


الاسم: اللقب:

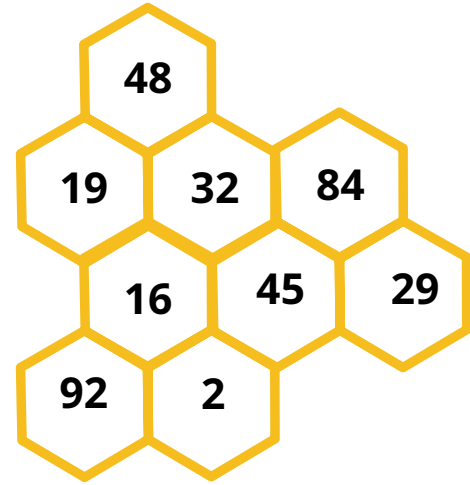
رتب الأعداد الآتية من الأصغر إلى الأكبر





رتب الأعداد الآتية من الأكبر إلى الأصغر





اكتب الأعداد الآتية بالحروف



			52				25
			10				48
			93				19

مراجعة شاملة في مادة الرياضيات

أكتب الأعداد الآتية بالأرقام



سبعون

اثنا وثلاثون

خمسة عشر

تسعة وتسعون

تسعة عشر

أربعة وستون

أكمل التفكيك حسب المثال



$$45 = 40 + 5$$

$$74 = \dots + \dots$$

$$92 = \dots + \dots$$

$$76 = \dots + \dots$$

$$15 = \dots + \dots$$

$$22 = \dots + \dots$$

$$45 = \dots + \dots$$

$$19 = \dots + \dots$$

$$36 = \dots + \dots$$

$$94 = \dots + \dots$$

$$21 = \dots + \dots$$

$$56 = \dots + \dots$$

$$24 = \dots + \dots$$

أكمل الحساب

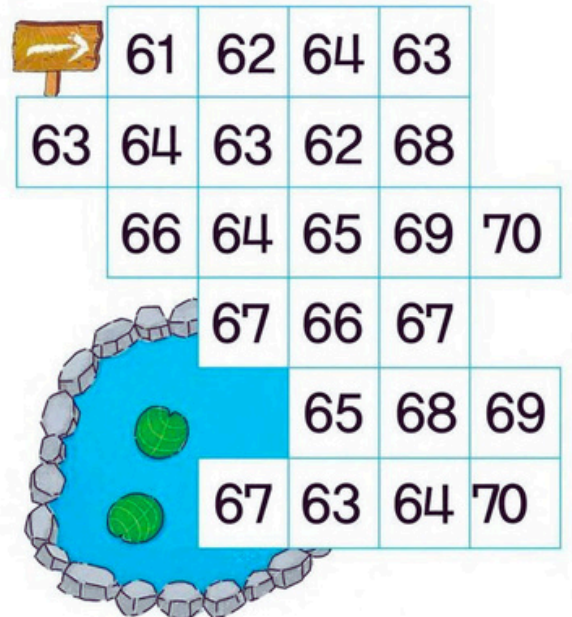


ألون الشريط العددي من 61 إلى 70



+	2
85	
86	
87	
88	
89	
90	

+	2
90	
86	
85	
88	
87	
89	



مراجعة شاملة في مادة الرياضيات

أكتب العدد الذي يلي والذي يسبق

. 74 .

. 38 .

. 40 .

. 25 .

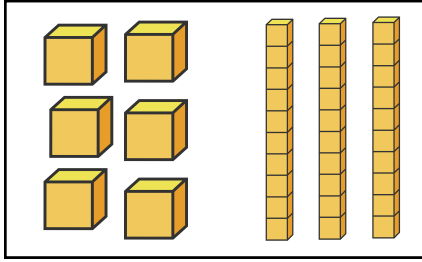
. 89 .

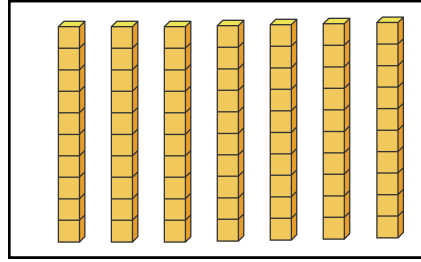
. 32 .

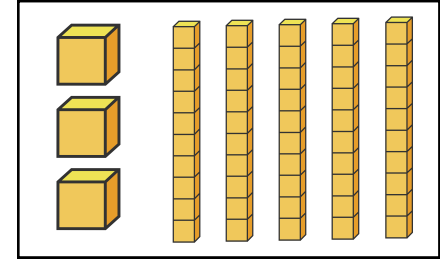
. 47 .

. 91 .






أكتب العدد المناسب







ألون أكبر عدد بالأصفر وأصغر عدد بالأحمر



أكمل حسب المثال

$$35 = 10 + 10 + 10 + 5$$

$72 = \dots\dots\dots$

$76 = \dots\dots\dots$

$58 = \dots\dots\dots$

$32 = \dots\dots\dots$

$24 = \dots\dots\dots$

$81 = \dots\dots\dots$

$96 = \dots\dots\dots$

$43 = \dots\dots\dots$