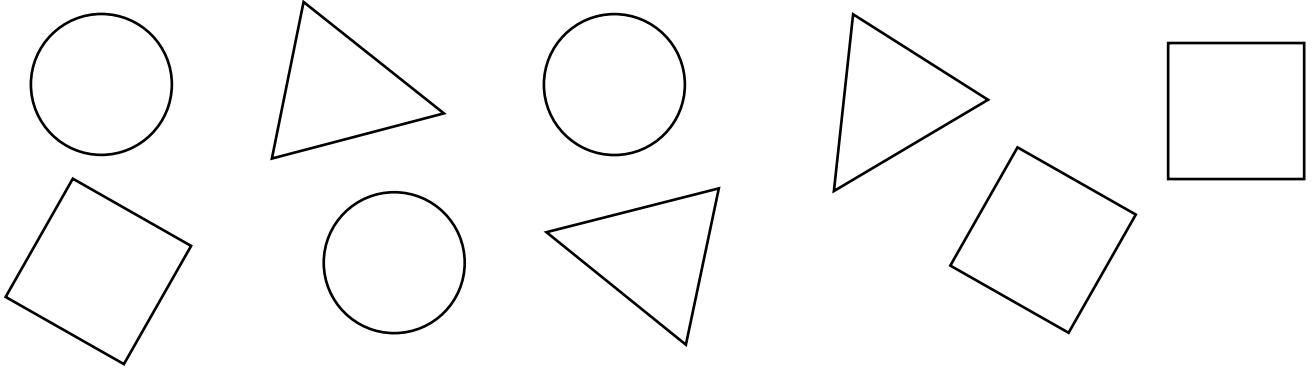


مراجعة في الرياضيات للتلاميذ المنتقلين إلى السنة أولى ابتدائي




التمرين الأول:

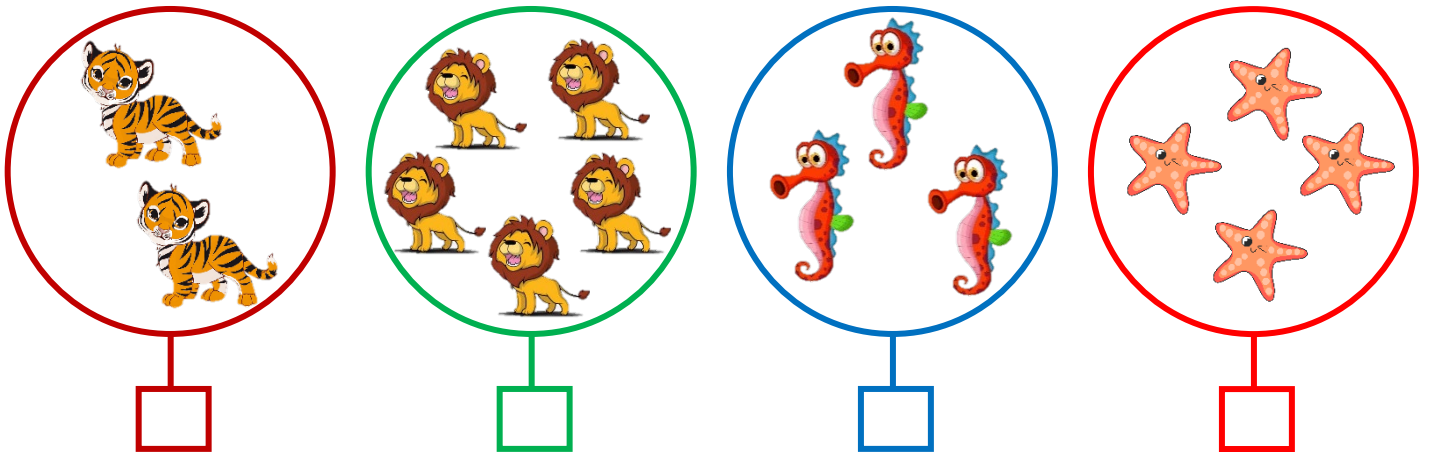
لوّن المُرَبَّعاتِ بِاللَّوْنِ الْأَحْمَرِ ، وَالمُثَلَّثَاتِ بِاللَّوْنِ الْأَزْرَقِ ، وَالدَّوَائِرَ بِاللَّوْنِ الْأَخْضَرِ :



التمرين الثاني: ضَعِ الأشْكَالَ الَّتِي لَهَا نَفْسُ اللَّوْنِ دَاخِلَ حَيِّزٍ:



التمرين الثالث: أَضْعُ تَحْتَ كُلِّ مَجْمُوعَةٍ عَدَدَ عَنَاصِرِهَا:



التمرين الرابع: أَكْمِلْ كِتَابَةَ الْعَدَدِ:

