

تقويم تشخيصي في مادة الرياضيات 1

أَكْمِل الشَّرِيْطَ العَدَدِي :

التمرين 1 :

...	23
-----	-----	-----	-----	----	-----	-----	-----

أَرْبِط بِسَهْم :


التمرين 2 :

8

7



9

5

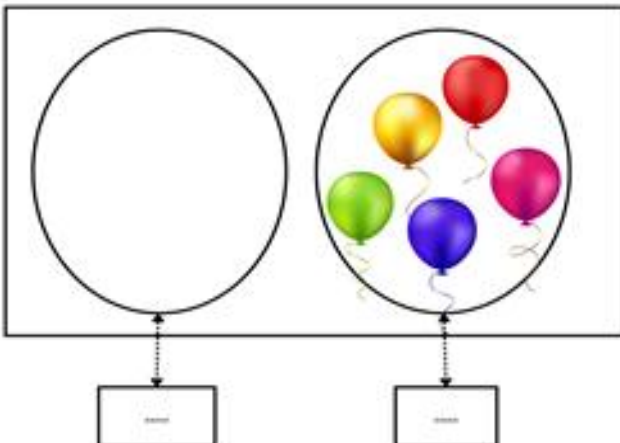


لَوْنُ أَصْغَرَ عَدَدٍ فِي كُلِّ مَجْمُوعَةٍ:

التمرين 3 :



الوضعية الإدماجية

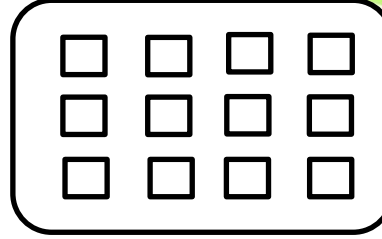
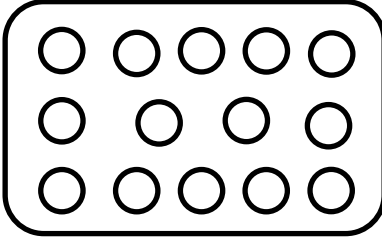


عند خديجة 5 بالونات ، اعطاها أحمد 3 بالونات.
 أكمل الرسم ثم احسب كم صار عندها.
 - صار عند خديجة بالونات.

تقويم تشخيصي في مادة الرياضيات 2

لون نصف الأشياء في كل بطاقة:

التمرين 1 :



أربط كل عدد بكتابته:

التمرين 2 :

$40+5$

$30+9$

$15+4$


تسعة عشر

خمسة و أربعون

تسعة وثلاثون

لون بالأحمر بطاقة الإجابة الصحيحة:

التمرين 3 :



❖ القطة وراء الولد .



❖ القطة على يسار الولد .



❖ القطة أمام الولد .

الوضعية الادماجية :



عند مريم 12 حبة حلوى ، تناولت منها 5 حبات.

أشطب حبات الحلوى التي تناولتها مريم.

- كم بقي عندها من حبة حلوى ؟

- بقي عند مريم حبات حلوى.

تقويم تشخيصي في مادة الرياضيات 3

لون البطاقة الصحيحة:

التمرين 1 :

	أكثر من	
13	أقل من	13
	بقدر	

	أكثر من	
12	أقل من	23
	بقدر	

	أكثر من	
15	أقل من	8
	بقدر	

أنجز العمليات الآتية:

التمرين 2:

$$\begin{array}{r} 59 \\ - \\ 23 \\ \hline = \end{array}$$

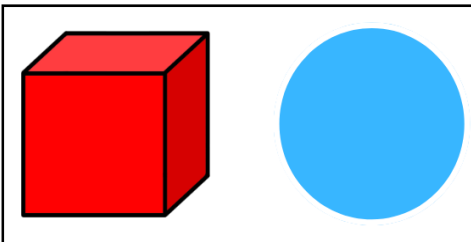
$$\begin{array}{r} 37 \\ - \\ 11 \\ \hline = \end{array}$$

$$\begin{array}{r} 37 \\ + \\ 11 \\ \hline = \end{array}$$

$$\begin{array}{r} 15 \\ + \\ 07 \\ \hline = \end{array}$$

أكمل الفراغ بالكلمات المناسبة:

التمرين 3:



من أنا ؟

❖ عندي 6 وجوه متشابهة ، من أنا ؟

❖ لا أملك وجوها وأتدحرج ، من أنا ؟

الوضعية الإدماجية:



اشترت ليلى قلما بـ 25 ديناراً، وممحاة بـ 40 ديناراً.

- ماهو ثمن المشتريات ؟