






النشاط الأول: أقوم بعد الأشياء داخل الدوائر الموائية وأكتب الرقم الموافق أسفلها .



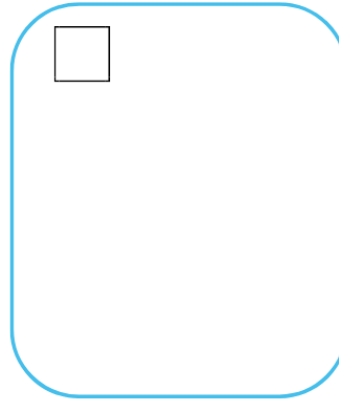
النشاط الثاني: أرسم أشياء داخل الحيز بقدر الرقم المطلوب مني .




7



12





20



11

النشاط الثالث: ألون الطريق الذي يسلكه الأرنب بالأصفر والطريق الذي

يسلكه الشرطي بالأزرق



اليوم
الأول

النشاط الأول : ألون المجاميع التالية بلون النتيجة المرفقة .

$12 + 8$

$2 + 18$

$19 + 6$

$15 + 5$

$10 + 10$

25

20

$18 + 7$

$22 + 3$

$9 + 11$

$24 + 1$

$14 + 11$

النشاط الثاني : أرسم أشياء داخل الحيز بقدر الرقم المطلوب مني .

$22 + 3 =$

$14 + 10 =$

$15 + 4 =$

$29 + 4 =$

$33 + 9 =$





$36 + 7 =$

$11 + 9 =$

$22 + 8 =$

$45 + 9 =$

النشاط الثالث : أكمل رسم الأشكال الموائية باستعمال المسطرة والقلم.



اليوم
الثاني

النشاط الأول: أعين التوقيت الخاص بكل ساعة حائط مما يلي



:



:



:



:



:



:



:



:













:



:

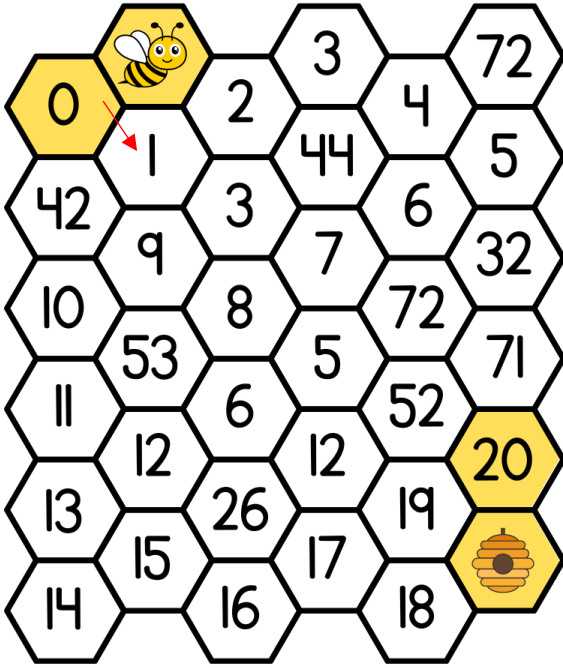
النشاط الثاني: أكمل كتابة الرقم الناقص لأصل إلى الناتج الصحيح .



اليوم
الثالث

النشاط الأول : أساعد النحلة على الإنطلاق من 0 والوصول إلى العدد 20 بأسرع

وقت وذلك بتلوين الخلية المناسبة




النشاط الثاني :

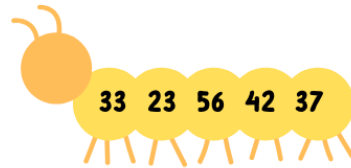
أرتب الأعداد التالية من الأصغر إلى الأكبر داخل كل دودة .



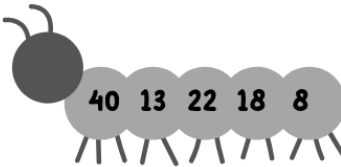
--	--	--	--	--



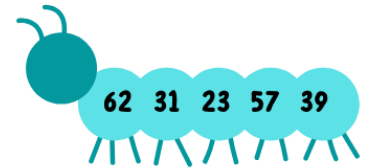
--	--	--	--	--



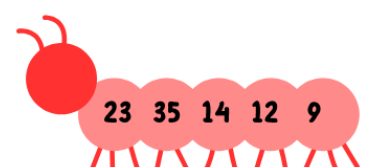
--	--	--	--	--



--	--	--	--	--



--	--	--	--	--





--	--	--	--	--



اليوم
الرابع

النشاط الأول: أصل بين العدد وضعفه مما يلي .



النشاط الثاني: أنجز العمليات التالية عموديا .

$$\begin{array}{r} 15 \\ + 34 \\ \hline \end{array}$$

$$\begin{array}{r} 17 \\ + 12 \\ \hline \end{array}$$

$$\begin{array}{r} 45 \\ + 13 \\ \hline \end{array}$$

$$\begin{array}{r} 54 \\ + 24 \\ \hline \end{array}$$

$$\begin{array}{r} 27 \\ + 30 \\ \hline \end{array}$$

$$\begin{array}{r} 72 \\ + 26 \\ \hline \end{array}$$

$$\begin{array}{r} 35 \\ + 53 \\ \hline \end{array}$$

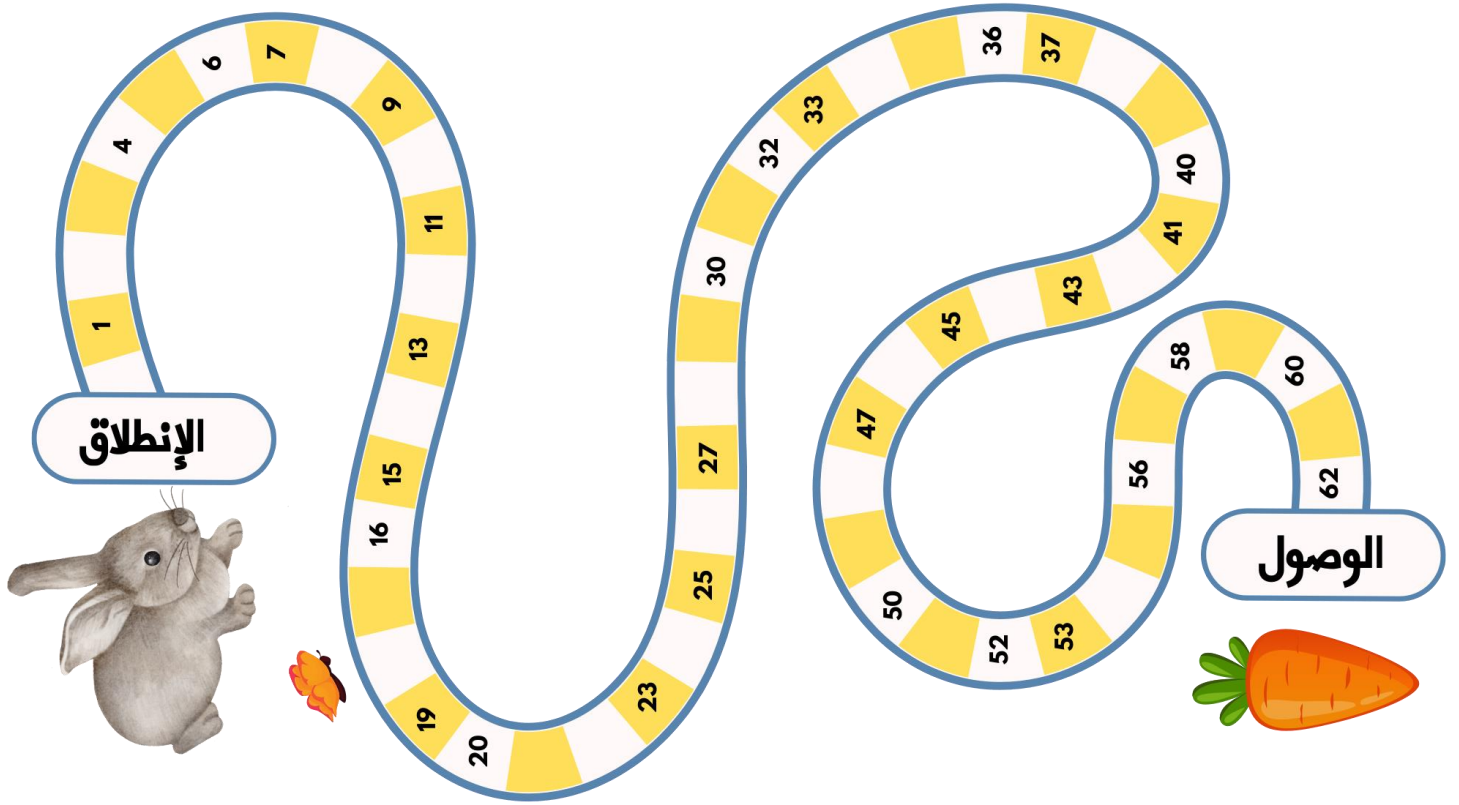
$$\begin{array}{r} 74 \\ + 21 \\ \hline \end{array}$$

$$\begin{array}{r} 23 \\ + 43 \\ \hline \end{array}$$

$$\begin{array}{r} 22 \\ + 33 \\ \hline \end{array}$$

اليوم
الخامس

النشاط الأول: أكمل المتتالية التالية وأساعد الأرنب السريع للوصول إلى جزرته.



النشاط الثاني: أعين إحداثيات العناصر المطلوبة منى

	أ	ب	ج	د	هـ	(1 , د)
1						(,)
2						(,)
3						(,)
4						(,)
5						(,)
6						(,)
						(,)
						(,)

اليوم
السادس