




انت تلميذ ذكي و
مميز حفظك الله و
رعاك

تقويم تشخيصي في الرياضيات للسنة الثانية ابتدائي

التمرين 01: ضَعُ في حَيْزِ كُلِّ عَشْرَةٍ مع بعض ثُمَّ اكمل الجدول

														
<table border="1"> <tr> <th>وحدات</th> <th>عشرات</th> </tr> <tr> <td></td> <td></td> </tr> </table>	وحدات	عشرات			<table border="1"> <tr> <th>وحدات</th> <th>عشرات</th> </tr> <tr> <td></td> <td></td> </tr> </table>	وحدات	عشرات			<table border="1"> <tr> <th>وحدات</th> <th>عشرات</th> </tr> <tr> <td></td> <td></td> </tr> </table>	وحدات	عشرات		
وحدات	عشرات													
وحدات	عشرات													
وحدات	عشرات													

التمرين 02: اكمل ملء الاشرطة العددية التالية

45	49
.....	63	66
.....	70	72
19	23

التمرين 03: أنجز مَا يَلِي

$12 + 4 = \dots\dots\dots$	$13 + 14 = \dots\dots\dots$	$23 + 15 = \dots\dots\dots$	$43 + 6 = \dots\dots\dots$
$15 - 3 = \dots\dots\dots$	$36 - 5 = \dots\dots\dots$	$47 - 10 = \dots\dots\dots$	$68 - 8 = \dots\dots\dots$

التمرين 04 : فكك الأعداد التالية كما في المثال

$$47 + 3 = 40 + 7 + 3 = 40 + 10 = 50$$

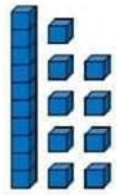
$$25 + 5 = \dots\dots\dots$$

$$58 + 2 = \dots\dots\dots$$

$$37 + 3 = \dots\dots\dots$$

$$19 + 1 = \dots\dots\dots$$

التمرين 05 : أكمل حسب المثال



51

63

44

19

التمرين 06 : رتب تصاعديًا الأعداد التالية

$$95 - 8 - 12 - 37 - 27$$

→

$$85 - 47 - 20 - 3 - 73 - 66$$

→

* رتب الأعداد التالية تنازليًا

$$3 - 73 - 99 - 39 - 17 - 24$$

→

$$32 - 10 - 23 - 63 - 36 - 51$$

.....

التمرين 07 :

أعط العدد الأكبر في كل حالة

$$72 - 18 - 27$$

$$37 - 11 - 97$$

$$37 - 24 - 58$$

أعط العدد الأصغر في كل حالة

$$29 \quad 37-14$$

$$78- 20 - 45$$

$$13 - 79 - 2$$

التمرين 08 : أكتب الأعداد بالأرقام أو بالحروف :

33 = أَرْبَعَةٌ وَ خَمْسُونَ =

18 = تِسْعَةٌ وَ عِشْرُونَ =

89 = - سَبْعَةٌ وَ ثَمَانُونَ =

التمرين 09 : أكمل ما يلي

* نصف العدد 18 هو / * ضعف العدد 7 هو

* نصف العدد 20 هو / * ضعف العدد 8 هو

* نصف العدد 30 هو / * ضعف العدد 10 هو

التمرين 10 : أكمل بالعدد الذي يسبق و العدد الذي يلي

.....	57	19
.....	46	32
.....	88	61

التمرين 10 : أحسب ما يلي

$\begin{array}{r} 54 \\ + 35 \\ \hline = \end{array}$	$\begin{array}{r} 63 \\ + 24 \\ \hline = \end{array}$	$\begin{array}{r} 49 \\ - 30 \\ \hline = \end{array}$	$\begin{array}{r} 77 \\ + 27 \\ \hline = \end{array}$
---	---	---	---



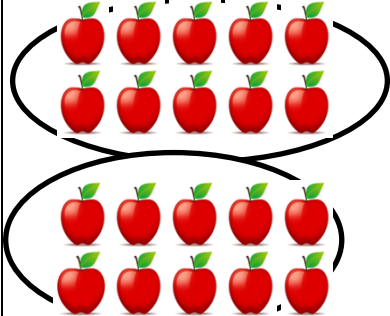
وضعت إدماج

② قرأ بهاء الدين 13 قصة في الشهر الأول من العطلة ، و 12 قصة في الشهر الثاني - كم قصة قرأها بهاء الدين ؟ - اذا علمت انه اشترى 35 قصة ما هو عدد القصص التي لم يقرأها ؟

① عند علاء الدين 89 دينارًا ، تبرع ب 55 دينارًا لفقير - كم دينارًا بقي عند علاء الدين ؟

الحلول

التمرين 01: صَعِّ فِي حَبِّ كُلِّ عَشْرَةٍ مَعَ بَعْضِ ثُمَّ اكْمَلِ الْحَدَّوَلِ

														
<table border="1" style="margin: auto;"> <tr> <th>وحدات</th> <th>عشرات</th> </tr> <tr> <td>6</td> <td>1</td> </tr> </table>	وحدات	عشرات	6	1	<table border="1" style="margin: auto;"> <tr> <th>وحدات</th> <th>عشرات</th> </tr> <tr> <td>2</td> <td>2</td> </tr> </table>	وحدات	عشرات	2	2	<table border="1" style="margin: auto;"> <tr> <th>وحدات</th> <th>عشرات</th> </tr> <tr> <td>1</td> <td>2</td> </tr> </table>	وحدات	عشرات	1	2
وحدات	عشرات													
6	1													
وحدات	عشرات													
2	2													
وحدات	عشرات													
1	2													

التمرين 02: أَكْمِلْ مِلْءَ الْأَشْرِطَةِ الْعَدَدِيَّةِ التَّالِيَةِ

45	46	47	48	49	50	51
62	63	64	65	66	67	68
69	70	71	72	73	74	75
19	20	21	22	23	24	25

التمرين 03: أَنْحِزْ مَا تَلِي

$12 + 4 = 16$	$13 + 14 = 27$	$23 + 15 = 38$	$43 + 6 = 49$
$15 - 3 = 12$	$36 - 5 = 31$	$47 - 10 = 37$	$68 - 8 = 60$

التمرين 04: فَكِّكِ الْأَعْدَادَ التَّالِيَةَ كَمَا فِي الْمَثَالِ

$$47 + 3 = 40 + 7 + 3 = 40 + 10 = 50$$

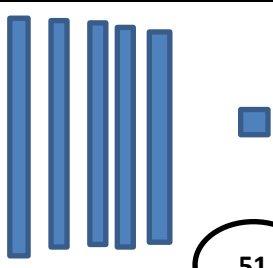
$$25 + 5 = 20 + 5 + 5 = 20 + 10 = 30$$

$$58 + 2 = 50 + 8 + 2 = 50 + 10 = 60$$

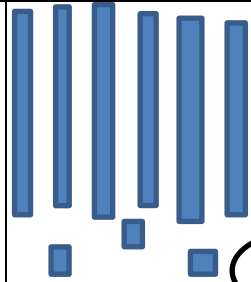
$$37 + 3 = 30 + 7 + 3 = 30 + 10 = 40$$

$$19 + 1 = 10 + 9 + 1 = 10 + 10 = 20$$

التمرين 05: أكمل حسب المثال



51



63



44



19

التمرين 06: * رتب تصاعدياً الأعداد التالية

$$95 - 8 - 12 - 37 - 27$$

$$8 - 12 - 27 - 37 - 95$$

$$85 - 47 - 20 - 3 - 73 - 66$$

$$3 - 20 - 47 - 66 - 73 - 85$$

* رتب الأعداد التالية تنازلياً

$$3 - 73 - 99 - 39 - 17 - 24$$

$$99 - 73 - 39 - 24 - 17 - 3$$

$$32 - 10 - 23 - 63 - 36 - 51$$

$$63 - 51 - 36 - 32 - 23 - 10$$

التمرين 07:

أحط العدد الأكبر في كل حالة

$$18 - 27$$

$$37 - 11$$

$$37 - 24$$

أحط العدد الأصغر في كل حالة

$$29 - 37$$

$$78 - 45$$

$$13 - 79$$

التمرين 08: أكتب الأعداد بالأرقام أو بالحروف :

أَرْبَعَةٌ وَ خَمْسُونَ = 54

33 = ثلاثة و ثلاثون

تِسْعَةٌ وَ عِشْرُونَ = 29

18 = ثمانية عشر

- سَبْعَةٌ وَ ثَمَانُونَ = 87

89 = تسعة و ثمانون

التمرين 09: أكمل ما يلي

* نصف العدد 18 هو 9 / * ضعف العدد 7 هو 14

* نصف العدد 20 هو 10 / * ضعف العدد 8 هو 16

* نصف العدد 30 هو 15 / * ضعف العدد 10 هو 20

التمرين 10: أكمل بالعدد الذي يسبق و العدد الذي يلي

56	57	58
45	46	47

18	19	20
31	32	33

87	88	89
----	----	----

60	61	62
----	----	----

التمرين 10: أحسب ما يلي

$\begin{array}{r} 54 \\ + 35 \\ \hline = 89 \end{array}$	$\begin{array}{r} 63 \\ + 24 \\ \hline = 87 \end{array}$	$\begin{array}{r} 49 \\ - 30 \\ \hline = 19 \end{array}$	$\begin{array}{r} 77 \\ + 27 \\ \hline = 50 \end{array}$
--	--	--	--

وضعية إدماجية

<p>②</p> $13 + 12 = 25$ <p>قراء بهاء الدين : 25 قصة</p> $35 - 25 = 10$ <p>عدد القصص التي لم يقرأها بهاء الدين 10 قصص</p>	<p>①</p> $89 - 55 = 34$ <p>بقي عند علاء الدين : 34 ديناراً</p>
--	--

إن أحسنت فمن الله وإن أسأت أو أخطأت فمن نفسي والشيطان