



مراجعة شاملة للفصل الثالث في الرياضيات للسنة الثانية ابتدائي

1) لاحظ الاعداد التالية :

213 - 357 - 911 - 263 - 621 - 235

➤ احصر أكبر عدد بين عشرين متتاليتين

➤ احصر أصغر عدد بين مئتين متتاليتين

➤ رتبها تصاعديا مستعملا الرمز المناسب

.....

➤ العدد الذي رقم وحداته 3 هو :

➤ العدد الذي رقم عشراته 5 هو :

➤ اكتب العدد الذي رقم مئاته 9 بالحروف

.....

➤ فكك العدد الذي رقم عشراته 6

2) اكتب العدد الذي يسبق والعدد الذي يلي :

	154	
--	-----	--

200		
-----	--	--

		950
--	--	-----

	324	
--	-----	--

		658
--	--	-----

	458	
--	-----	--

3) اكمل الحساب :

$12 \times 10 = \dots\dots$	$54 \times 10 = \dots\dots$	$87 \times 10 = \dots\dots$
$31 \times 10 = \dots\dots\dots$	$0 \times 10 = \dots\dots\dots$	$10 \times 10 = \dots\dots\dots$

4) انجز العمليات التالية عموديا :

$329+145=$	$92-45=$	$24 \times 4=...$	$57 \times 3=$

5) احسب ما يلي حسب المثال :

$4 \times 3 = 4+4+4= 12$	$6 \times 3 =$
$5 \times 4 =$	$2 \times 8 =$
$3 \times 7 =$	$4 \times 5 =$

6) اكمل كتابة الجداء في كل مساواة حسب المثال :

$4+4 = 4 \times 2 = 8$	$7 + 7 + 7 + 7 =$
$5+5+5 =$	$3+3+3+3+3+3++3+3=$

7) احسب :

$1 \times 1 =$	$7 \times 2 =$	$5 \times 8 =$	$5 \times 5 =$
$0 \times 9 =$	$4 \times 3 =$	$2 \times 9 =$	$9 \times 1 =$

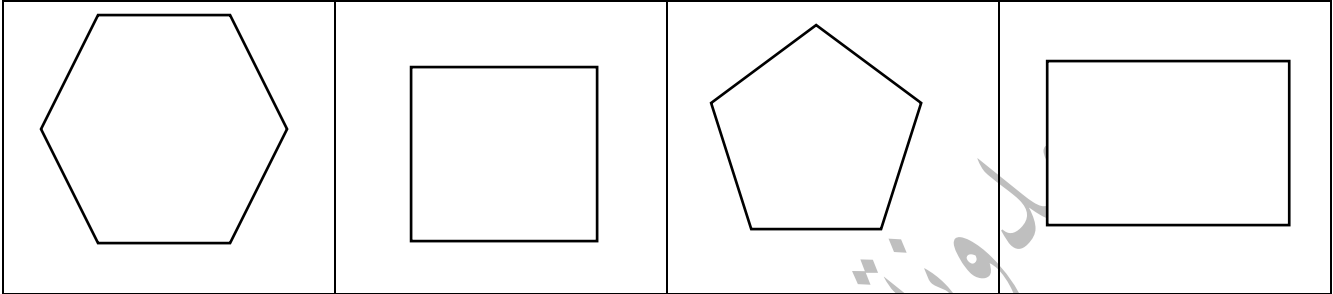
8) اكمل الجدول :

الكتابة بالأرقام	الكتابة بالحروف	رقم الوحدات	رقم العشرات	رقم المئات	التفكيك
354					
	مئة وثمانية وخمسون				
697					

(9) ضع الرمز المناسب (= ، < ، >) :

354.... 154	310.....31x10	951.....591	837.....873
315.....531	4x3.....14	601.....606	012.....120

(10) عين محور تناظر واحد في كل شكل مما يلي :



(11) اكمل بالعدد المناسب:

ساعتين =دقيقة	أسبوع =يوم	شهر =يوم
يوم =ساعة	ساعة =دقيقة	نصف ساعة =دقيقة

(12) اتعرف على المجسمات ثم اكمل الجدول:

			الاسم
			عدد الوجود
			عدد الرؤوس
			عدد الاحرف

(13) اكمل بالعبارة المناسبة : أثقل من – أخف من

	
وزن البطيخ وزن التفاح	وزن البرتقال وزن الاجاص

(14) لاحظ هذا البيان الذي يمثل عدد التلاميذ والمأكولات المفضلة لهم

	<p>1- ما هو عدد التلاميذ الذين يفضلون الفطائر؟</p> <p>2- ما هو عدد التلاميذ الذين يفضلون الخبز؟</p> <p>3- ما هي الاكلة التي يفضلها اقل عدد من التلاميذ؟</p>
--	---

(15) لاحظ المثال وأتمم:

$$42 \times 4 = 40 \times 4 + 2 \times 4 = 160 + 8 = 168$$

$$21 \times 3 = \dots\dots\dots$$

$$38 \times 2 = \dots\dots\dots$$

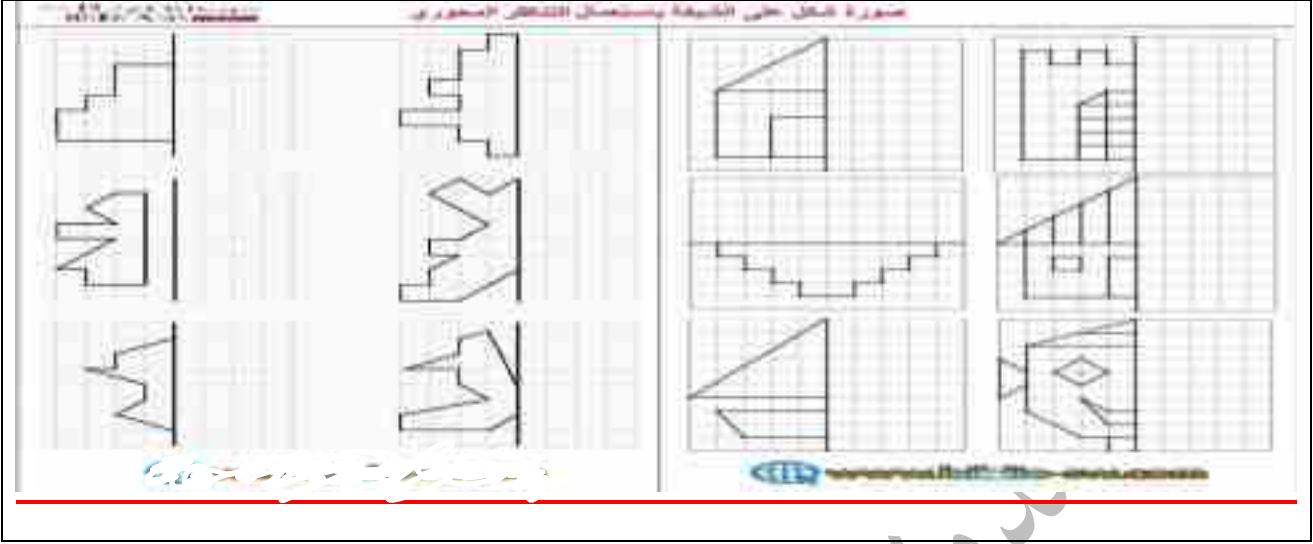
$$14 \times 9 = \dots\dots\dots$$

(16) اكمل الشريط العددي:

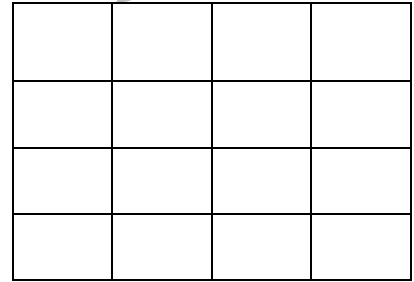
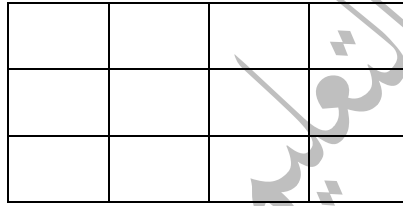
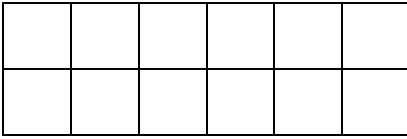
342	346
-----	-----	------	-------	-------	-------	-------	-------

.....	283	285
-------	-----	-----	-------	-------	-------	-------	-------

(17) اكمل رسم الاشكال التالية مستعينا بمحور التناظر:



(18) احسب الجذاءات باستعمال المرصوفات



.....X.....

.....X.....

.....X.....

(19) وضعيات ادماجية:

(1) لمكتبة المدرسة 8 أرفف . كل رف يحتوي على 25 كتابا.
 - ما هو عدد الكتب الموجودة في المكتبة ؟

(2) تملك مريم 545 ديناراً . اشترت 5 قصص ب 64 ديناراً للقصة الواحدة
 - ما هو ثمن القصص ؟
 - كم ديناراً بقي معها ؟

(3) اشترت الام 3 أطباق من البيض في كل طبق 30 بيضة .
 - ما هو عدد البيض الذي اشترته الام ؟
 - بعد صنع الحلوى لم يبق من البيض إلا 18 بيضة.
 - ما هو عدد البيض الذي استهلكته الام في صنع الحلوى ؟

(4) - غرس فلاح 31 شجيرة تفاح و 72 شجيرة برتقال
 - كم شجيرة غرس الفلاح ؟
 - سقى كل شجيرة ب 7 لترات من الماء.
 - ماهي كمية الماء التي استعملها لسقي كل الشجيرات ؟

إن أحسنت فمن الله وإن أسأت أو أخطأت فمن نفسي والشيطان

الحلول

01) لاحظ الاعداد التالية :

213 - 357 - 921 - 362 - 621 - 236

➤ احصر أكبر عدد بين عشرين متتاليتين $920 < 921 < 930$

➤ احصر أصغر عدد بين مئتين متتاليتين $200 < 213 < 300$

➤ رتبها تصاعديا مستعملا الرمز المناسب

$213 < 236 < 357 < 362 < 621 < 921$

➤ العدد الذي رقم وحداته 6 هو : 236

➤ العدد الذي رقم عشراته 5 هو : 357

➤ اكتب العدد الذي رقم مئاته 9 بالحروف

تسعمئة وواحد وعشرون

➤ فكك العدد الذي رقم عشراته 6 : $362 \leftarrow 362 = 300 + 60 + 2$

02) اكتب العدد الذي يسبق والعدد الذي يلي :

153	154	155
-----	-----	-----

200	201	202
-----	-----	-----

948	949	950
-----	-----	-----

323	324	325
-----	-----	-----

656	657	658
-----	-----	-----

457	458	459
-----	-----	-----

03) اكمل الحساب :

$12 \times 10 = 120$	$54 \times 10 = 540$	$87 \times 10 = 870$
$31 \times 10 = 310$	$0 \times 10 = 0$	$10 \times 10 = 100$

04) انجز العمليات التالية عموديا :

$329+145=$ $\begin{array}{r} 3^{1}29 \\ + 145 \\ \hline = 474 \end{array}$	$92-45=$ $\begin{array}{r} 9^{1}2 \\ - 45 \\ \hline = 47 \end{array}$ $\begin{array}{r} 8^{9}12 \\ - 45 \\ \hline = 47 \end{array}$	$24 \times 4 = \dots$ $\begin{array}{r} 24 \\ \times 4 \\ \hline = 96 \end{array}$	$57 \times 3 =$ $\begin{array}{r} 57 \\ \times 3 \\ \hline = 171 \end{array}$
---	---	---	--

05) احسب ما يلي حسب المثال :

$4 \times 3 = 4+4+4= 12$ $5 \times 4 = 5+5+5+5=20$ $3 \times 7 = 3+3+3+3+3+3+3=21$	$6 \times 3 = 6+6+6=18$ $2 \times 8 = 2+2+2+2+2+2+2+2=16$ $4 \times 5 = 4+4+4+4+4=20$
--	---

06) اكمل كتابة الجداء في كل مساواة حسب المثال :

$4+4 = 4 \times 2 = 8$ $5+5+5 = 5 \times 3 = 15$	$7+7+7+7 = 7 \times 4 = 28$ $3+3+3+3+3+3+3+3 = 3 \times 8 = 24$
---	--

07) احسب :

$1 \times 1 = 1$	$7 \times 2 = 14$	$5 \times 8 = 40$	$5 \times 5 = 25$
$0 \times 9 = 0$	$4 \times 3 = 12$	$2 \times 9 = 18$	$9 \times 1 = 9$

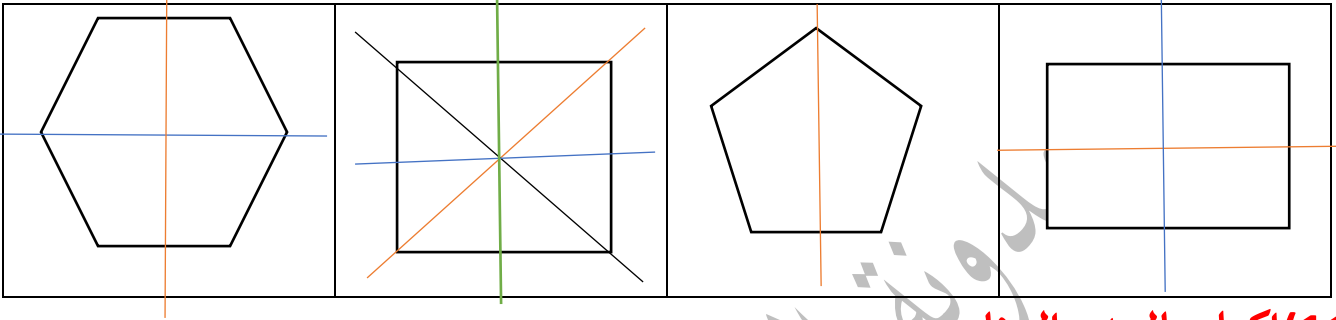
08) اكمل الجدول :

الكتابة بالأرقام	الكتابة بالحروف	رقم الوحدات	رقم العشرات	رقم المئات	التفكيك
354	ثلاثمائة وأربعة وخمسون	4	5	3	$300+50+4$
158	مائة وثمانية وخمسون	8	5	1	$100+50+8$
697	ستمائة وسبعة وتسعون	7	9	6	$600+90+7$

09) ضع الرمز المناسب (> ، < ، =) :

$354 > 154$	$310 = .31 \times 10$	$951 > 591$	$837 < 873$
$315 < 531$	$4 \times 3 < 14$	$601 < 606$	$012 < 120$

10) عين محور تناظر واحد في كل شكل مما يلي :



11) اكمل بالعدد المناسب:

ساعتين = 120 دقيقة	أسبوع = 7 يوم	شهر = 30 يوم
يوم = 24 ساعة	ساعة = 60 دقيقة	نصف ساعة = 30 دقيقة


12) اتعرف على المجسمات ثم اكمل الجدول:

البلاطة القائمة	الأسطوانة	المكعب	الاسم
6	2	6	عدد الواجه
8	0	8	عدد الرؤوس
12	0	12	عدد الاحرف

(13) اكمل بالعبارة المناسبة : أثقل من – أخف من

	
وزن البطيخ أثقل وزن التفاح	وزن البرتقال أخف وزن الاجاص

(14) لاحظ هذا البيان الذي يمثل عدد التلاميذ والمأكولات المفضلة لهم

	<p>(01) ما هو عدد التلاميذ الذين يفضلون الفطائر 25 تلميذ</p> <p>(02) ما هو عدد التلاميذ الذين يفضلون الخبز؟ 20 تلميذ</p> <p>(03) ما هي الاكلة التي يفضلها اقل عدد من التلاميذ؟..... الحساء</p>
--	---

(15) لاحظ المثال وأتمم:

$$42 \times 4 = 40 \times 4 + 2 \times 4 = 160 + 8 = 168$$

$$21 \times 3 = 20 \times 3 + 1 \times 3 = 60 + 3 = 63$$

$$38 \times 2 = 30 \times 2 + 8 \times 2 = 60 + 16 = 76$$

$$14 \times 9 = 10 \times 9 + 4 \times 9 = 90 + 36 = 126$$

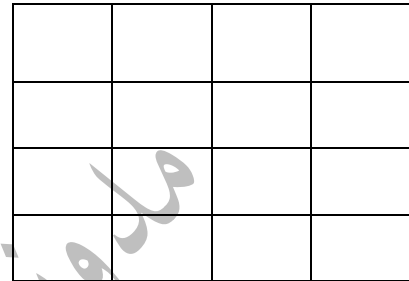
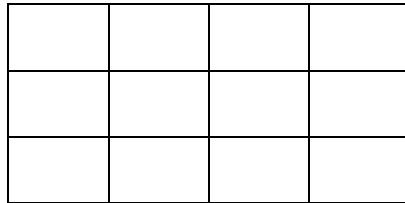
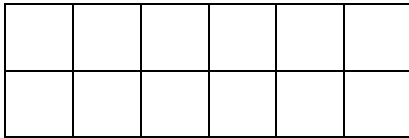
(16) اكمل الشريط العددي:

342	346	350	354	358	362	366	370
-----	-----	-----	-----	-----	-----	-----	-----

281	283	285	287	289	291	293	295
-----	-----	-----	-----	-----	-----	-----	-----

17) اكمل رسم الاشكال التالية مستعينا بمحور التناظر:

18) احسب الجداءات باستعمال المرصوفات



2x6

3x4

4x4

19) وضعيات ادماجية:

<p><u>2</u></p> <p>$64 \times 5 = 320$ 320 دينار ثمن القصص : $545 - 320 = 225$ 225 دينار بقي مع مريم :</p>	<p><u>1</u></p> <p>$25 \times 8 = 200$ 200 كتابا عدد الكتب الموجودة في المكتبة :</p>
<p><u>-4</u></p> <p>$31 + 72 = 103$ 109 شجيرة غرس الفلاح : $103 \times 7 = 721$ 721 لترا كمية الماء التي استعملها الفلاح هي :</p>	<p><u>-3</u></p> <p>في صنع الحلوى؟ $30 \times 3 = 90$ 90 بيضة. عدد البيض الذي اشترته الام: $90 - 18 = 72$ 72 بيضة عدد البيض الذي استهلكته الام :</p>

إن أحسنت فمن الله وإن أسأت أو أخطأت فمن نفسي والشيطان