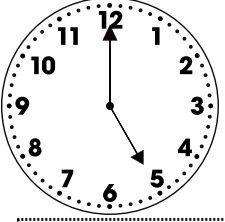


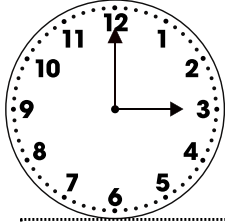
المقادير والقياس

النشاط الأول: أكتب التوقيت الذي تشير إليه كل ساعة

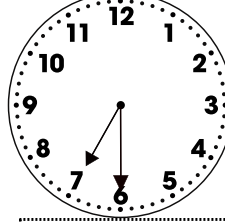
صباحا



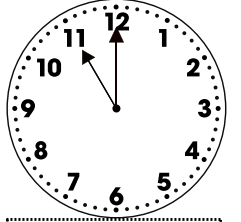
صباحا



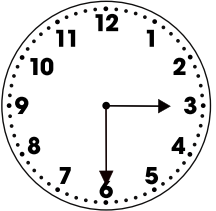
صباحا



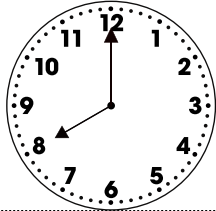
صباحا



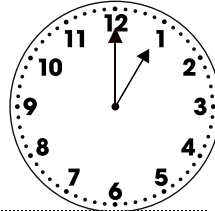
مساء



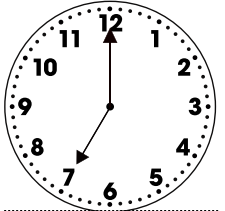
مساء



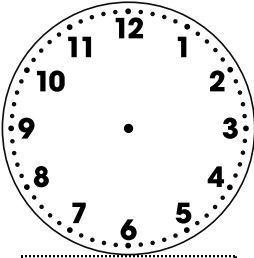
مساء




مساء



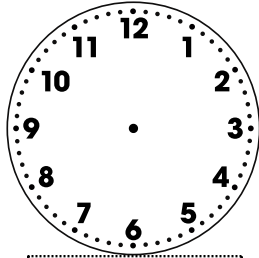
النشاط الثاني: أرسم عقربي كل ساعة




16:00



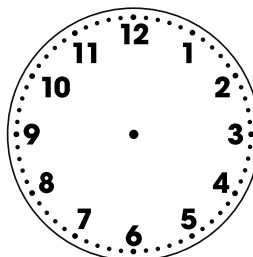
10:30



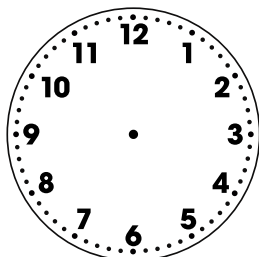
18:00



5:00



21:00



00:00