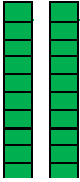





ورقة عمل الرياضيات رقم 1

النشاط 1 أكمل ملء الفراغات في كل جدول.

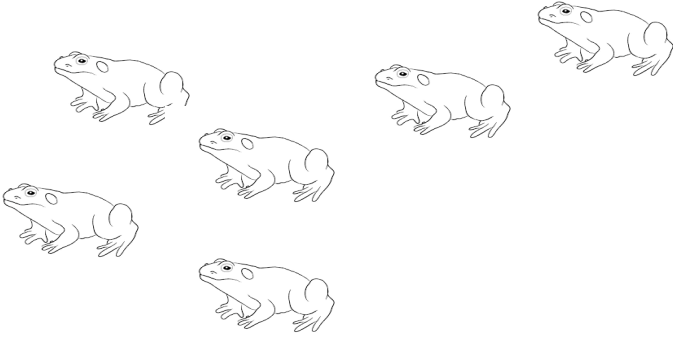
العشرات	الوحدات
	
.....
.....	

العشرات	الوحدات
	
.....
.....	

النشاط 2: أكمل بالعدد المناسب:

- عدد الضفادع التي على استقامية واحدة هي:

- لونها باللون الأخضر.



النشاط 3: أكمل ملء الجدول

اليوم	الاختبار
الأحد
الاثنين
الثلاثاء
الأربعاء
الخميس

برنامج الاختبارات:

- الأحد: اللغة العربية.
- الاثنين: التربية الإسلامية.
- الثلاثاء: الرياضيات.
- الأربعاء: التربية العلمية.
- الخميس: التربية المدنية.

النشاط 4: لون الساعة التي تشير إلى التوقيت الصحيح.

السبعة والنصف صباحا

09:30

11:00

12:30

السابعة صباحا

10:00

09:30


07:00

ورقة عمل الرياضيات رقم 2

النشاط 1: أرسم الأشكال الناقصة في كل بطاقة

<div style="display: flex; flex-direction: column; align-items: center;"> <div style="border: 1px solid black; width: 30px; height: 30px; margin-bottom: 5px;"></div> <div style="border: 1px solid black; width: 30px; height: 30px; margin-bottom: 5px;"></div> <div style="border: 1px solid black; width: 30px; height: 30px; margin-bottom: 5px;"></div> <div style="border: 1px solid black; width: 30px; height: 30px; margin-bottom: 5px;"></div> <div style="border: 1px solid black; width: 30px; height: 30px;"></div> </div>	<div style="display: flex; flex-direction: column; align-items: center;"> <div style="display: flex; justify-content: space-around; width: 100%;"> ☆☆☆☆☆☆☆☆ </div> <div style="margin-top: 10px;">☆</div> </div>	<div style="display: flex; flex-direction: column; align-items: center;"> <div style="display: flex; justify-content: space-around; width: 100%;"> ◇◇ </div> <div style="margin-top: 10px;">◇◇◇◇◇◇ </div> </div>	<div style="display: flex; flex-direction: column; align-items: center;"> <div style="border: 1px solid black; width: 30px; height: 30px; margin-bottom: 5px;"></div> <div style="border: 1px solid black; width: 30px; height: 30px; margin-bottom: 5px;"></div> <div style="border: 1px solid black; width: 30px; height: 30px; margin-bottom: 5px;"></div> <div style="border: 1px solid black; width: 30px; height: 30px;"></div> </div>
13	25	29	36

النشاط 2: أفرم بالتجميع ثم اكمل:



<div style="display: flex; flex-direction: column; align-items: center;"> <div style="border: 1px solid black; width: 30px; height: 30px; margin-bottom: 5px;"></div> <div style="border: 1px solid black; width: 30px; height: 30px; margin-bottom: 5px;"></div> <div style="border: 1px solid black; width: 30px; height: 30px; margin-bottom: 5px;"></div> <div style="border: 1px solid black; width: 30px; height: 30px; margin-bottom: 5px;"></div> <div style="border: 1px solid black; width: 30px; height: 30px; margin-bottom: 5px;"></div> <div style="border: 1px solid black; width: 30px; height: 30px;"></div> </div>	<div style="display: flex; flex-direction: column; align-items: center;"> <div style="border: 1px solid black; width: 30px; height: 30px; margin-bottom: 5px;"></div> <div style="border: 1px solid black; width: 30px; height: 30px; margin-bottom: 5px;"></div> <div style="border: 1px solid black; width: 30px; height: 30px; margin-bottom: 5px;"></div> <div style="border: 1px solid black; width: 30px; height: 30px;"></div> </div>
.....

النشاط 3: أمثل الأعداد بالوحدات والعشرات.

العشرات	الوحدات
2	9
.....	

العشرات	الوحدات
3	5
.....	

النشاط 4: ألون البطاقة الصحيحة.

5	أكبر من	31
	أصغر من	
	يساوي	

15	أكبر من	6
	أصغر من	
	يساوي	

34	أكبر من	26
	أصغر من	
	يساوي	

22	أكبر من	18
	أصغر من	
	يساوي	

12	أكبر من	17
	أصغر من	
	يساوي	

10	أكبر من	10
	أصغر من	
	يساوي	

ورقة عمل الرياضيات رقم 3

النشاط 1: أَحْسَبْ:

$14 + 11 = \dots$	$17 + 2 = \dots$	$26 + 13 = \dots$	$19 + 1 = \dots$	$13 + 14 = \dots$
$37 - 15 = \dots$	$15 - 2 = \dots$	$10 - 1 = \dots$	$30 - 1 = \dots$	$20 - 1 = \dots$

النشاط 2: لَوْنُ بِنَفْسِ اللَّوْنِ بِطَاقَاتِ الْأَعْدَادِ الْمُتَسَاوِيَةِ:

24	ثَلَاثَةٌ وَثَلَاثُونَ	$30 + 5$
33	أَرْبَعَةٌ وَعِشْرُونَ	$30 + 3$
35	سِتَّةٌ عَشَرَ	$20 + 4$
16	خَمْسَةٌ وَثَلَاثُونَ	$10 + 6$

النشاط 3: اكْتُبِ الْعَدَدَ الَّذِي يَسْبِقُ وَالَّذِي يَلِي.

.....	20
-------	----	-------

.....	10
-------	----	-------

.....	30
-------	----	-------

.....	31
-------	----	-------

النشاط 4: اكْمِلِ الْحِسَابَ حَسَبَ الْمِثَالِ.

$$27 = 10 + 10 + 7$$

$$27 = 20 + 7$$

$$34 = \dots + \dots + \dots + \dots$$

$$34 = \dots + \dots$$

$$21 = \dots + \dots + \dots$$

$$21 = \dots + \dots$$